

## Sudety

18.09.2009 r. — część pisemna (wersja B)

**1. Książę Bolko I świdnicki był synem:**

- a. Bolesława Rogatki,
- b. Henryka Pobożnego,
- c. Henryka Prawego (Probusa),
- d. Władysława Wygnańca.

**2. Zaznacz prawidłową kolejność chronologiczną wydarzeń:**

1. przejście księstw śląskich pod władzę czeską,
  2. walki o władzę między Maciejem Korwinem a Jerzym z Podiebiadów,
  3. wojny husyckie,
  4. śmierć ostatniego Piasta legnicko-brzeskiego,
- a. 4 – 1 – 2 – 3,
  - b. 1 – 3 – 2 – 4,
  - c. 3 – 2 – 4 – 1,
  - d. 3 – 4 – 1 – 2.

**3. Wskaż prawidłowe zestawienie rodów z siedzibami (w XVIII w.):**

1. Schaffgotsch
  2. Hochberg
  3. Stillfried
  4. Althann
- a. Cieplice, Książ, Nowa Ruda, Międzylesie,
  - b. Chojnik, Świny, Bożków, Jeleniów,
  - c. Gryf, Kamienna Góra, Wałbrzych, Trzebieszowice,
  - d. Czarne, Roztoka, Czocho, Ołdrzychowice Kłodzkie.

4. Wybierz poprawne przyporządkowanie postaciom nazw miejscowości, w których działały:
1. Bernard Rosa,
  2. Michał Klahr,
  3. Joseph von Eichendorff,
  4. Ludomir Różycki.
- a. 1. Krzeszów, 2. Bystrzyca Kłodzka, 3. Kłodzko, 4. Przesieka,
  - b. 1. Krzeszów, 2. Łądek Zdrój, 3. Nysa, 4. Zachelmie,
  - c. 1. Henryków, 2. Świdnica, 3. Prudnik, 4. Michałowice,
  - d. 1. Henryków, 2. Łądek Zdrój, 3. Świdnica, 4. Jagniątków.
5. Które z wymienionych wydarzeń nie zaowocowało powstaniem na Śląsku grupy kościołów ewangelickich?
- a. objęcie władzy w Czechach przez Habsburgów,
  - b. zagarnięcie Śląska przez Prusy,
  - c. zawarcie pokoju westfalskiego,
  - d. zawarcie konwencji w Altranstadt.
6. Przełęcz Trzech Dolin znajduje się w Górach:
- a. Sowich,
  - b. Masywie Śnieżnika,
  - c. Górach Suchych,
  - d. Górach Kruczych.
7. Góry Żelazne to część:
- a. Krowiarek,
  - b. Gór Kaczawskich,
  - c. Gór Kamiennych,
  - d. Gór Orfickich.
8. Karkonoskie grupy skalne: Pielgrzymy, Słonecznik, Końskie Łby, Trzy Świnki – zbudowane są
- a. wapienia,
  - b. piaskowca,
  - c. bazaltu,
  - d. granitu.

9. W którym paśmie górskim (mezoregionie) znajdują się: Kozia Równia, Przełęcz Jugowska, Kalenica?

- a. w G. Bardzkich,
- b. w G. Bystrzyckich,
- c. w G. Wałbrzyskich,
- d. w G. Sowich.


10. Góry: Okolę, Maślak, Baraniec, Połom znajdują się w:

- a. Górach Bystrzyckich,
- b. Rudawach Janowickich,
- c. Górach Sowich
- cl. Górach Kaczawskich.

11. Aby zwiedzić Muzeum Kultury Ludowej Podgórze Sudeckiego trzeba się udać do:

- a. Paczkowa,
- b. Jawora,
- c. Pstrążnej,
- d. Sobótki.

12. Przedstawione na poniższych rysunkach przykłady różnych portali są ustawione w kolejności:



- a. renesansowy, romański, gotycki, romański,
- b. renesansowy, gotycki, barokowy, romański,
- c. barokowy, gotycki, renesansowy, romański,
- d. barokowy, romański, renesansowy, gotycki.

13. Który rok zawarty jest w niniejszym chronostychu?

D I V O I O A N N I N E P O M Y C E N O S A C R A T A

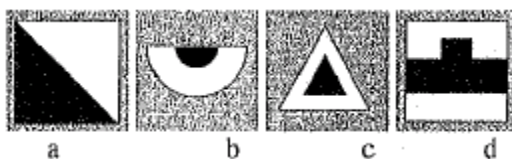
- a. 1710,
- b. 1713,
- c. 1715,
- d. 1708.

14. Wybierz poprawne zestawienie specjalizacji muzeum i nazwy miejscowości, w której się znajduje:
1. gazownictwa,
  2. sprzętu gospodarstwa domowego,
  3. kultury ludowej podgórze sudeckiego (skansen),
  4. dawnego kupiectwa.
- a. 1 – Sobótka, 2 – Wałbrzych, 3 – Nowa Ruda – Słupiec, 4 – Kłodzko,
  - b. 1 – Ziębice, 2 – Strzelin, 3 – Duszniki Zdrój, 4 – Sobótka,
  - c. 1 – Paczków, 2 – Ziębice, 3 – Pstrążna, 4 – Świdnica,
  - d. 1 – Ząbkowice Śląskie, 2 – Nowa Ruda, 3 – Przerzeczyn Zdrój, 4 – Świdnica.
15. Postać na zdjęciu – skąpo odziany mężczyzna z kosturem, mocno uginający się pod ciężarem dźwiganego dziecięcia z aureolą, to:

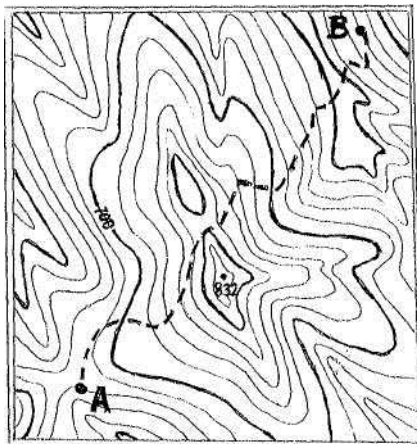


- a. św. Mikołaj,
  - b. św. Wit,
  - c. św. Krzysztof,
  - d. św. Jerzy.
16. Piętro subalpejskie w Karkonoszach występuje na wysokości
- a. 1000 – 1250 m n.p.m.,
  - b. 1250 – 1450 n.p.m.,
  - c. powyżej 1450 m n.p.m.,
  - d. w Karkonoszach nie występuje.
17. Rezerwat przyrody „Wąwóz Myśluborski” znajduje się:
- a. w Masywie Ślęży,
  - b. na Pogórzu Wałbrzyskim,
  - c. na Wzgórzach Strzelińskich,
  - d. na Podgórzu Kaczawskim.

18. W Sudetach Środkowych istnieją następujące parki krajobrazowe (PK):
- PK Doliny Bystrzycy, Książański PK, Ślężański PK,
  - PK Gór Sowich, Książański PK, PK Sudetów Wałbrzyskich,
  - PK Doliny Pełcznicy, Sowiogórski PK, PK Gór Bystrzyckich,
  - PK Doliny Bystrzycy, PK Gór Sowich, Stołowogórski PK.
19. Aby móc obserwować kwitnący pełnik europejski (kłodzką różę), należy wybrać się na wycieczkę w okresie:
- luty – marzec,
  - kwiecień,
  - maj – czerwiec,
  - lipiec – sierpień.
20. Ciemiężca zielona, modrzyk górski, miłosna górska, tojad mocny – to rośliny zbiorowisk:
- borów,
  - lasów łągowych,
  - torfowisk,
  - ziołorośli.
21. Na przełęczy Spalanej znajduje się schronisko:
- Muflonik,
  - Jagodna,
  - Andrzejówka,
  - Zygmuntówka.
22. Obiektem zabytkowym, którego miasta jest ustawiony przed ratuszem pomnik gołębiarki?
- Wlenia,
  - Mirska,
  - Lubawki,
  - Międzylesia.
23. Który z prezentowanych znaków, pokazuje dojście do źródła?



24. Kto z XIX-wiecznych gości uzdrowiska w Cieplicach Śl. jest autorem pisanej relacji pt. „Dyliżansem przez Śląsk. Dziennik podróży do Cieplic w roku 1816”?
- Kornel Ujejski,
  - Izabela Czartoryska,
  - Wincenty Pol,
  - Michał kard. Radziejowski.
25. Tzw. „kierunek sudecki” określają azymuty:
- $0^\circ - 180^\circ$ ,
  - $45^\circ - 225^\circ$ ,
  - $90^\circ - 270^\circ$ ,
  - $135^\circ - 315^\circ$ .
26. Który z wymienionych obiektów nie znajduje się na Szlaku Zamków Piastowskich?
- Świecie,
  - Wleń,
  - Bolków,
  - Grodziec.
27. Przedstawiona mapka ma skalę 1:50 000 i cięcie warstwowe 20 m. Trasa od punktu A do punktu B (zaznaczona linią przerywaną) ma na mapie długość 12 cm. Ile punktów do Górskiej Odznaki Turystycznej otrzymuje się za przejście tej trasy?



- 6,
- 8,
- 12,
- 14.

28. Co należy zrobić, w pierwszej kolejności, po niewielkim oparzeniu, określanym jako „I. stopnia”.
- podać środki przeciwbólowe,
  - założyć jałowy opatrunek,
  - schłodzić oparzone miejsce czystą zimną wodą,
  - unieruchomić oparzoną kończynę.
29. Wzywając pomoc w górach należy wysyłać sygnały dźwiękowe lub świetlne w częstotliwości:
- 6 razy na minutę w odstępach 10-sekundowych, po czym następuje minutowa przerwa,
  - 6 razy na minutę w odstępach 10-sekundowych, ciągle bez przerwy,
  - 3 razy na minutę w odstępach 20-sekundowych, po czym następuje minutowa przerwa,
  - 3 razy na minutę w odstępach 20-sekundowych, ciągle bez przerwy.
30. Nie wolno prowadzić górskich wycieczek z młodzieżą:
- w okresie zimy,
  - podczas burzy, śnieżycy i gołoledzi,
  - od 15.10 do 15.04,
  - powyżej 1000 mn.p.m.